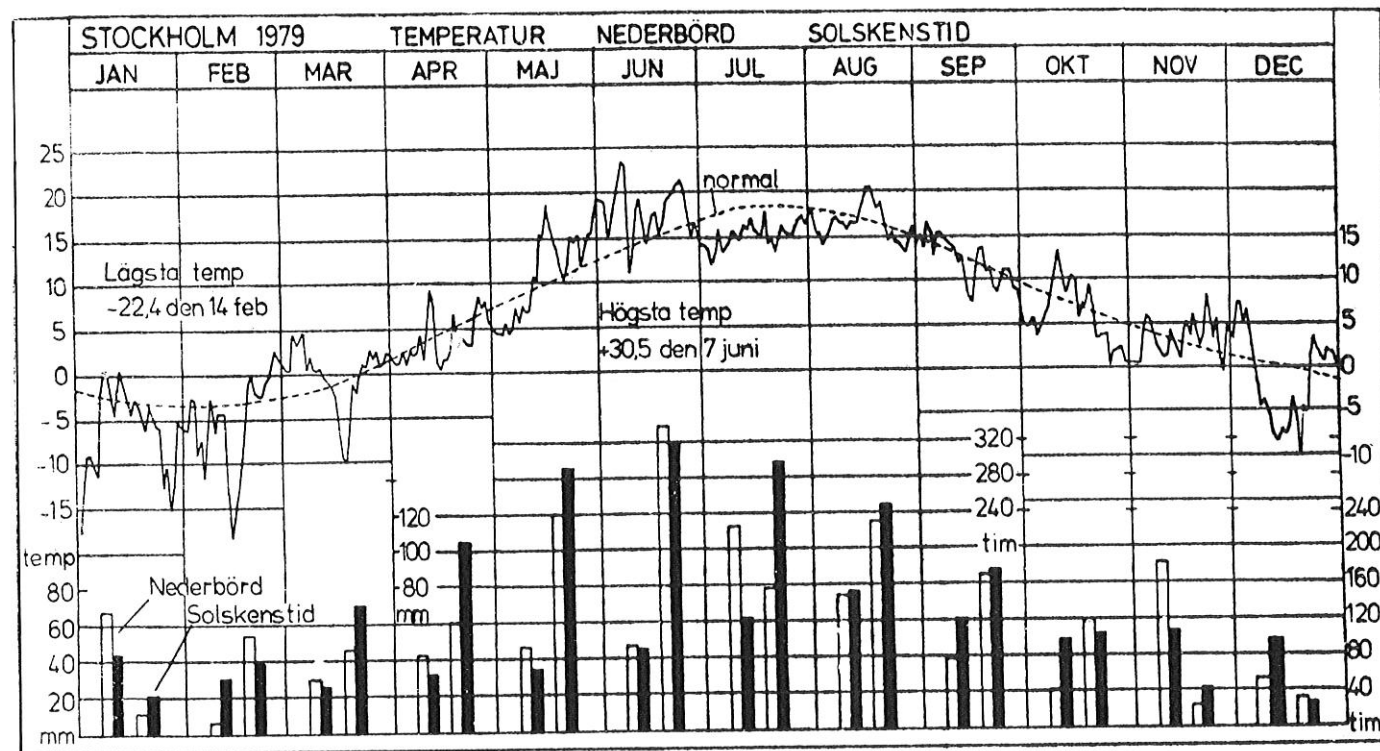


NEDERBÖRD, TEMPERATUR OCH SOLSKENSTIMMAR I STOCKHOLM 1979



Nederbörd = stapelparet till vänster i varje månad
 Solskenstid = stapelparet till höger i varje månad
 Ofylld stapel = månadens värden 1979
 Fylld stapel = normala värden för månaden

Källa: Iseborg, Raoul. 1979 blev fjärde kalla året i rad. SvD, 1980-01-02.

19. Ungefär hur många solskenstimmar var det i Stockholm under perioden juni - augusti 1979?

- A 350 timmar
- B 730 timmar
- C 870 timmar
- D 980 timmar
- E 1 230 timmar

20. Vilken månad under 1979 var mest nederbördsrik i Stockholm?

- A Maj
- B Juni
- C Juli
- D September
- E November

PROVET ÄR SLUT. OM DU HAR TID ÖVER, GÅ TILLBAKA OCH KONTROLLERA DINA SVAR.

Högskoleprov

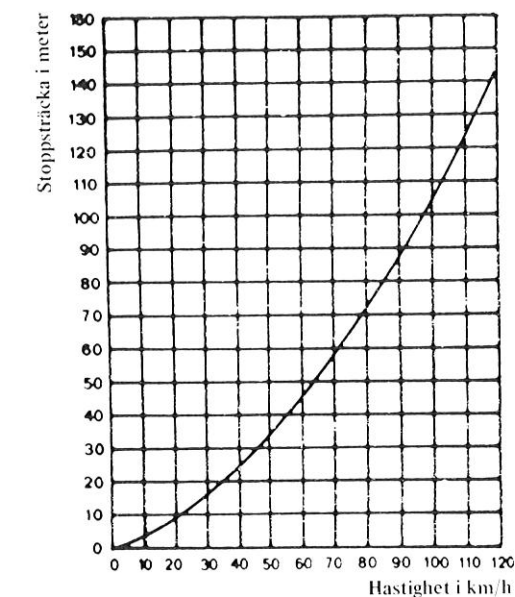
DELPROV 4: DTK

Anvisningar

Provet innehåller diagram, tabeller, kartor och andra grafiska framställningar. Materialet har hämtats från olika källor och lyfts ur sitt ursprungliga sammanhang. Viss information har därför lagts till för att förklara vissa begrepp eller förhållanden.

Uppgifterna skall lösas med hjälp av den information som presenteras på respektive uppslag. Till varje uppgift finns fem svarsförslag, varav ett är det riktiga.

Övningsexempel



Antag att två bilar, var och en med en hastighet av 100 km/h, riskerar att kollidera kylare mot kylare. Hur lång är den minsta stoppsträcka de tillsammans behöver för att undvika kollision?

- A 90 meter
- B 100 meter
- C 105 meter
- D 190 meter
- E 210 meter

Samband mellan hastighet och stoppsträcka.

I figuren kan man avläsa att stoppsträckan vid en hastighet av 100 km/h är ungefär 105 meter. För att kollision mellan de två bilarna skall undvikas, måste den sammanlagda stoppsträckan vara minst 210 meter. Svarsförslag E är därför det riktiga. Om uppgiften hade ingått i provet, skulle Du ha skrivit E i svarshäftet.

Skriv alla svar i svarshäftet.

Skriv tydligt.

Om Du inte kan lösa en uppgift bör Du ändå avge ett svar genom att försöka bedöma vilket svarsförslag som verkar mest rimligt.

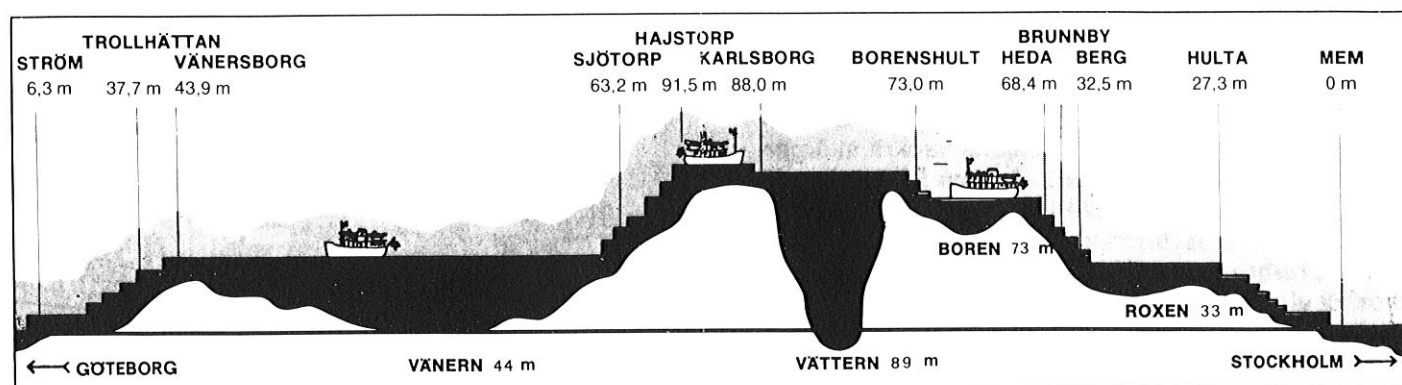
Du får inget poängavdrag om Du svarar fel.

På nästa sida börjar provet som innehåller 20 uppgifter.

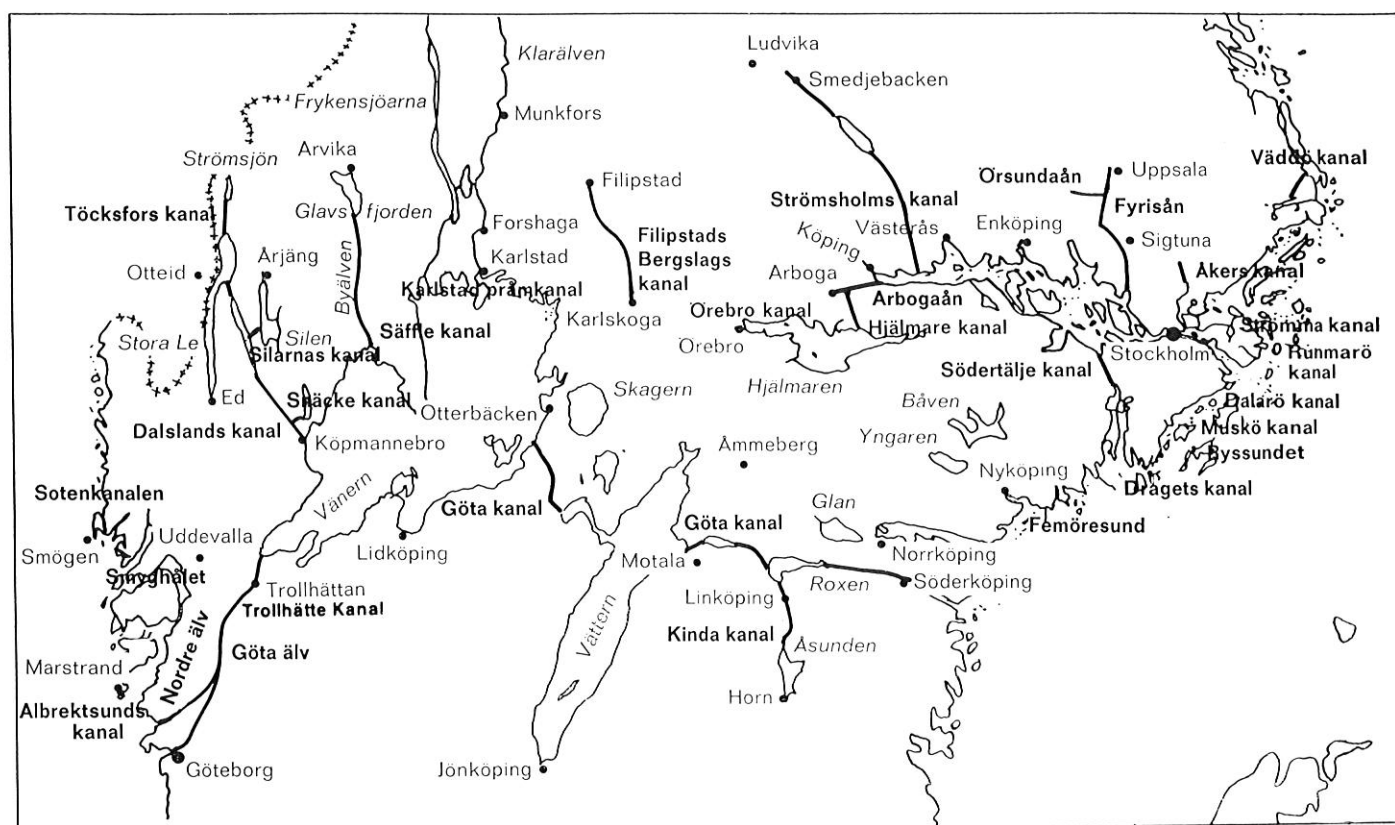
PROVTID: 50 minuter

VÄND INTE BLAD FÖRRÄN PROVLEDAREN SÄGER TILL!

HÖJDPROFIL - KANALVÄGEN STOCKHOLM - GÖTEBORG



Siffror anger höjd över havet i meter.



STÖRSTA TILLÅTNA FARTYGSMÅTT

I Trollhätte Kanal	Längd 88 m (290 fot),	bredd 13,1 (43),	djup 5,3 (17,4)
I Göta Kanal	32 m (105 fot),	7 (23),	2,82 (9 1/4)
I Södertälje Kanal	120 m (396 fot),	18 (60),	5,5 (18)

DISTANSER — dist-min/km (antal slussar)

Göteborg — Vänersborg	45,0/ 84,0 (6)	Farleden i Boren	6,5/ 12,0
Vänersborg — Sjötorp	66,0/ 122,0	Borensberg — Berg	12,0/ 22,2 (16)
Sjötorp — Tåtorp	19,4/ 35,9 (20)	Farleden i Roxen	14,0/ 25,9
Tåtorp — Karlsborg	16,2/ 30,1 (1)	Norsholm — Mem	15,4/ 28,6 (15)
Karlsborg — Motala	17,3/ 32,0	Mem — Södertälje	95,0/ 175,9 (1)
Motala — Borensbult	2,1/ 3,8 (6)	Södertälje — Stockholm	21,0/ 38,9

1. Hur stor andel av de studerande äldre än 44 år var registrerade på enstaka kurser hösten 1980?

- A Cirka 15 procent
- B Cirka 25 procent
- C Cirka 55 procent
- D Cirka 75 procent
- E Cirka 95 procent

2. En sektor hade följande åldersfördelning bland de studerande registrerade på utbildningslinje:

30 procent av åldersgruppen 24 år eller yngre, 21 procent av åldersgruppen 25-44 år samt 18 procent av åldersgruppen 45 år och äldre.

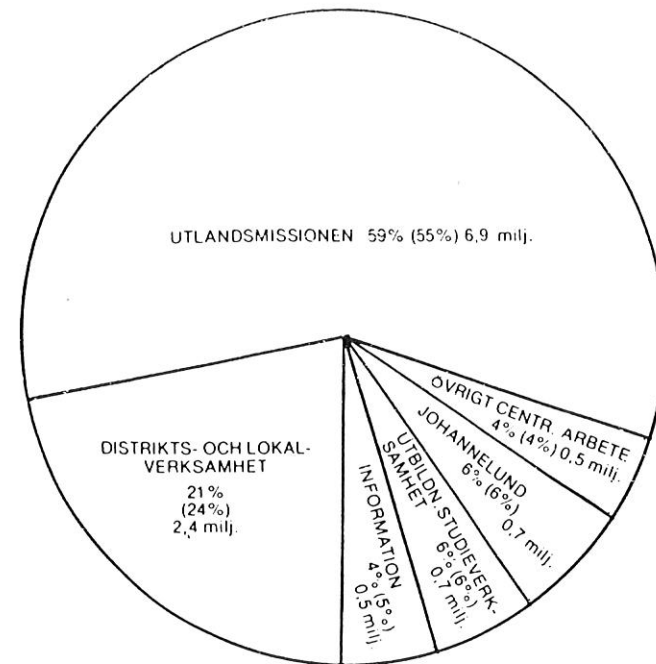
Vilken var denna sektor?

- A Sektor för kultur och informationsyrken, KI
- B Sektor för tekniska yrken, T
- C Sektor för administrativa, ekonomiska och sociala yrken, AES
- D Sektor för vårdyrken, V
- E Sektor för undervisningsyrken, U

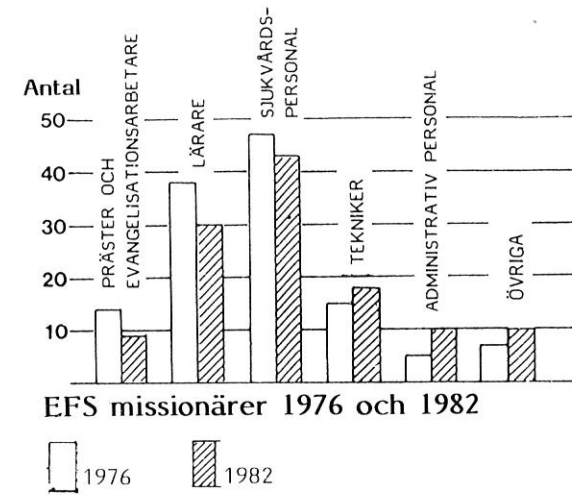
FORTSÄTT PÅ NÄSTA SIDA

EVANGELISKA FOSTERLANDSSTIFTELSEN, EFS - GÅVOMEDELSBUDGET

FÖRDELNING AV GÅVOMEDEL - 1976 11,75 miljoner kronor
1975 10,52 miljoner kronor



Siffror inom parentes avser 1975



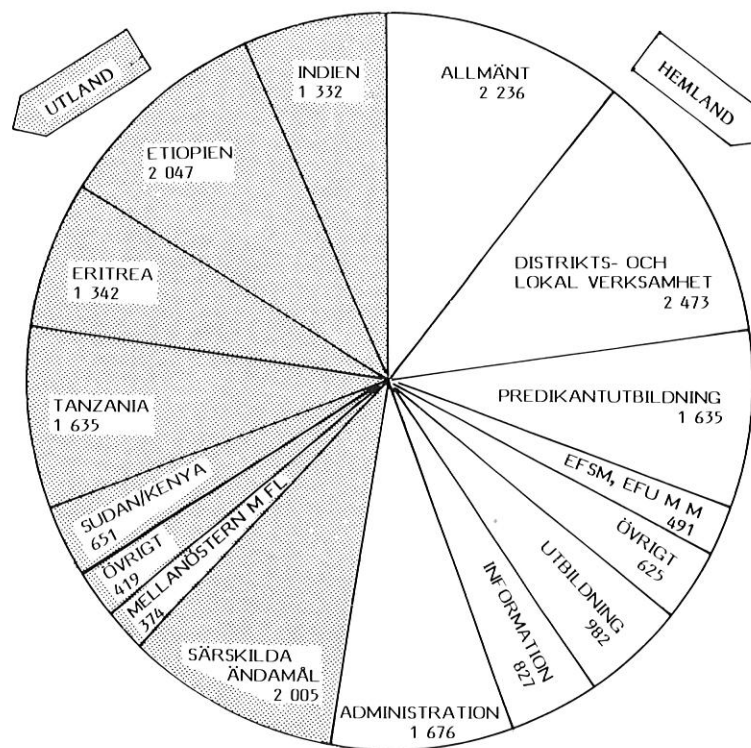
3. Ungefär hur mycket hade genomsnittslängden för 14-åriga pojkar ökat mellan 1883 och 1938?

- A 5 cm
- B 8 cm
- C 14 cm
- D 19 cm
- E 26 cm

4. Ungefär vid vilken ålder motsvarar genomsnittslängden för flickor 1968 den längd 16-åriga flickor hade 1883?

- A 12 år
- B 13 år
- C 13,5 år
- D 14 år
- E 15,5 år

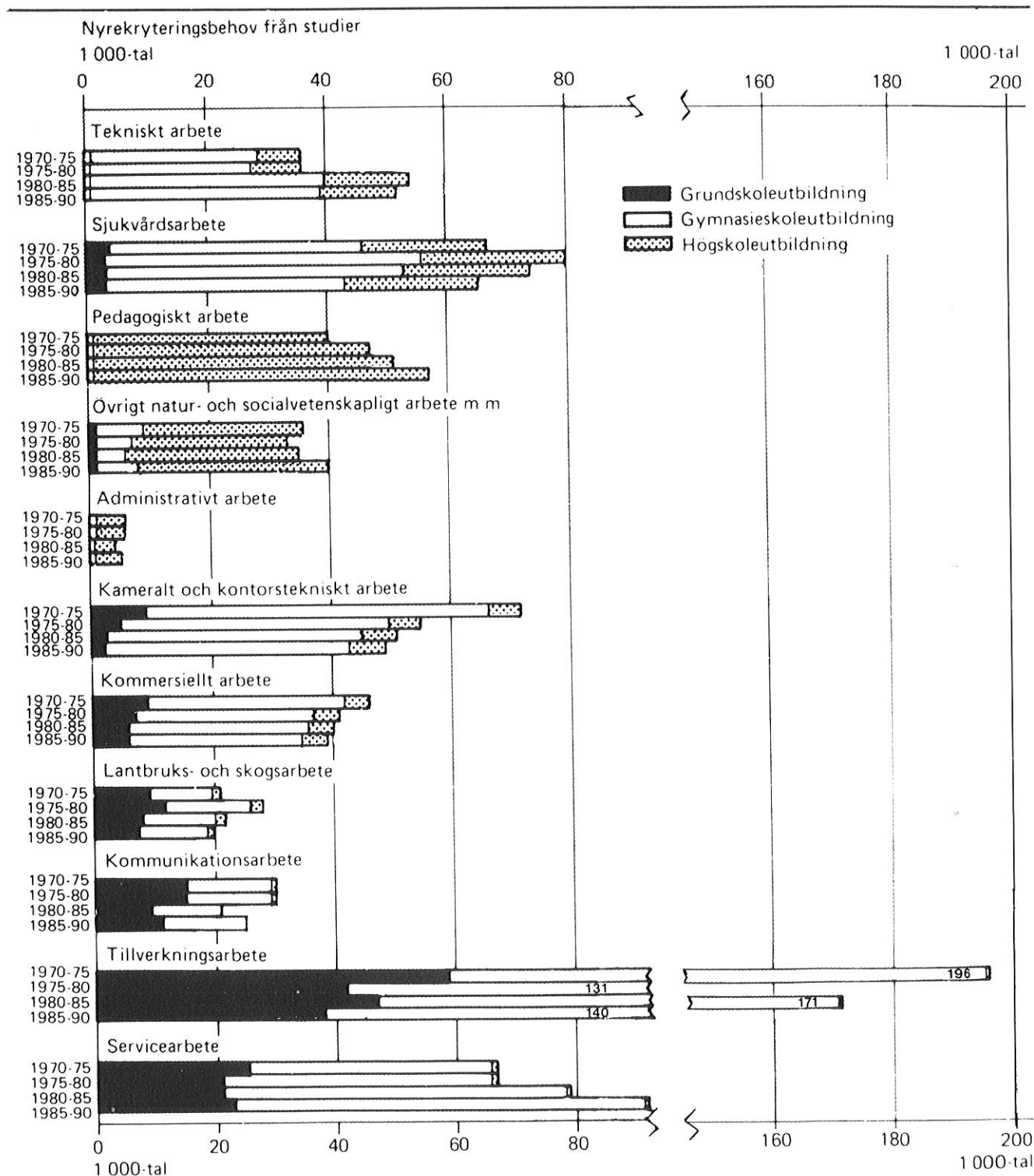
FÖRDELNING AV GÅVOMEDEL - 1982 20,7 miljoner kronor



Siffrorna anger belopp i 1 000 kronor.

FORTSÄTT PÅ NÄSTA SIDA

ARBETSMARKNADENS NYREKRYTERINGSBEHOV



Arbetsmarknadens nyrekryteringsbehov i 1 000-tal personer med olika utbildningsbakgrund 1970-1990.

5. Vilken utbredning har golfsporten i Östergötlands län?

- A 26-30 spelare/golfhåll, <3 000 invånare/golfhåll och 9-13,5 spelare/1 000 invånare.
 B 21-25 spelare/golfhåll, 3 000 - 4 000 invånare/golfhåll och 9-13,5 spelare/1 000 invånare.
 C 31-35 spelare/golfhåll, 5 000 - 6 000 invånare/golfhåll och fler än 13,5 spelare per 1 000 invånare.
 D 21-25 spelare/golfhåll, 4 000 - 5 000 invånare/golfhåll och 4,5-9 spelare/1 000 invånare.
 E 26-30 spelare/golfhåll, 4 000 - 5 000 invånare/golfhåll och 4,5-9 spelare/1 000 invånare.

6. Vilket av följande svarsförslag speglar golfsportens geografiska utbredning i Sverige?

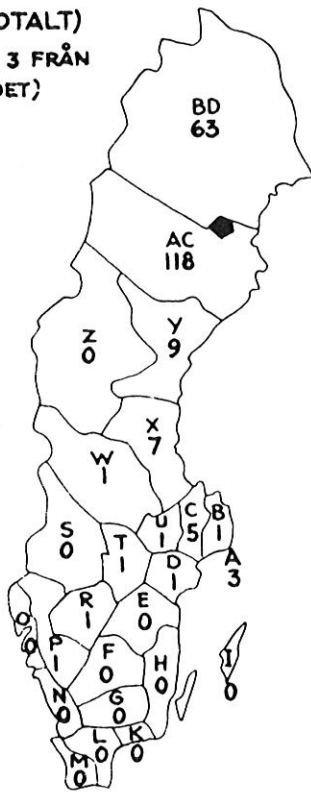
- A Ju längre söderut desto fler spelare per 1 000 invånare och desto färre invånare per golfhåll.
 B Ju längre norrut desto fler invånare per golfhåll och desto fler spelare per golfhåll.
 C Ju längre söderut desto fler spelare per golfhåll och desto färre spelare per 1 000 invånare.
 D Ju längre norrut desto fler spelare per 1 000 invånare och desto färre invånare per golfhåll.
 E Ju längre söderut desto fler invånare per golfhåll och desto fler spelare per golfhåll.

FORTSÄTT PÅ NÄSTA SIDA

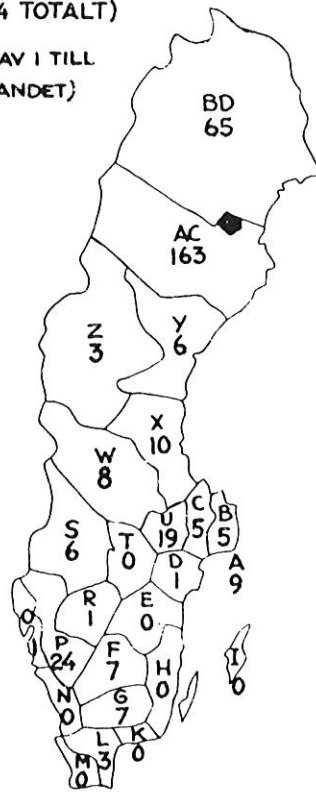
JÖRNS KOMMUN - FLYTTNINGSFÄLT OCH BEFOLKNINGSFÖRÄNDRINGAR

FLYTTNINGSFÄLT FÖR JÖRNS KOMMUN 1961

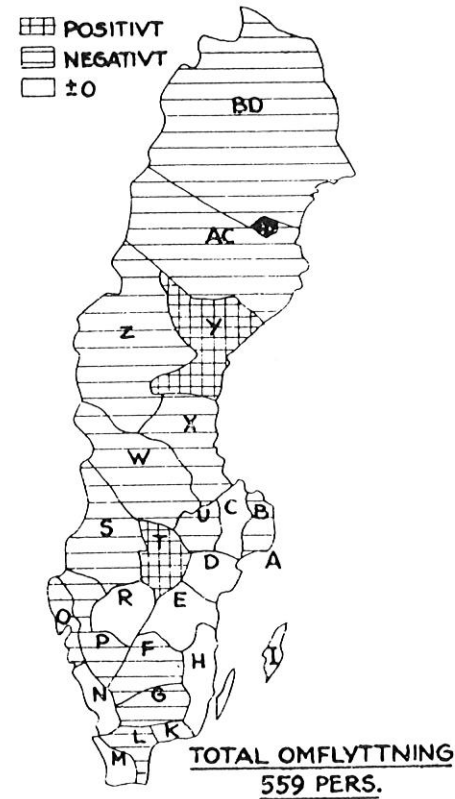
INFLYTTARE FRÅN:
(215 TOTALT)
(DÄRAV 3 FRÅN
UTLANDET)



UTFLYTTARE TILL:
(344 TOTALT)
(DÄRAV 1 TILL
UTLANDET)



FLYTTNINGSNETTO: -129 PERS.

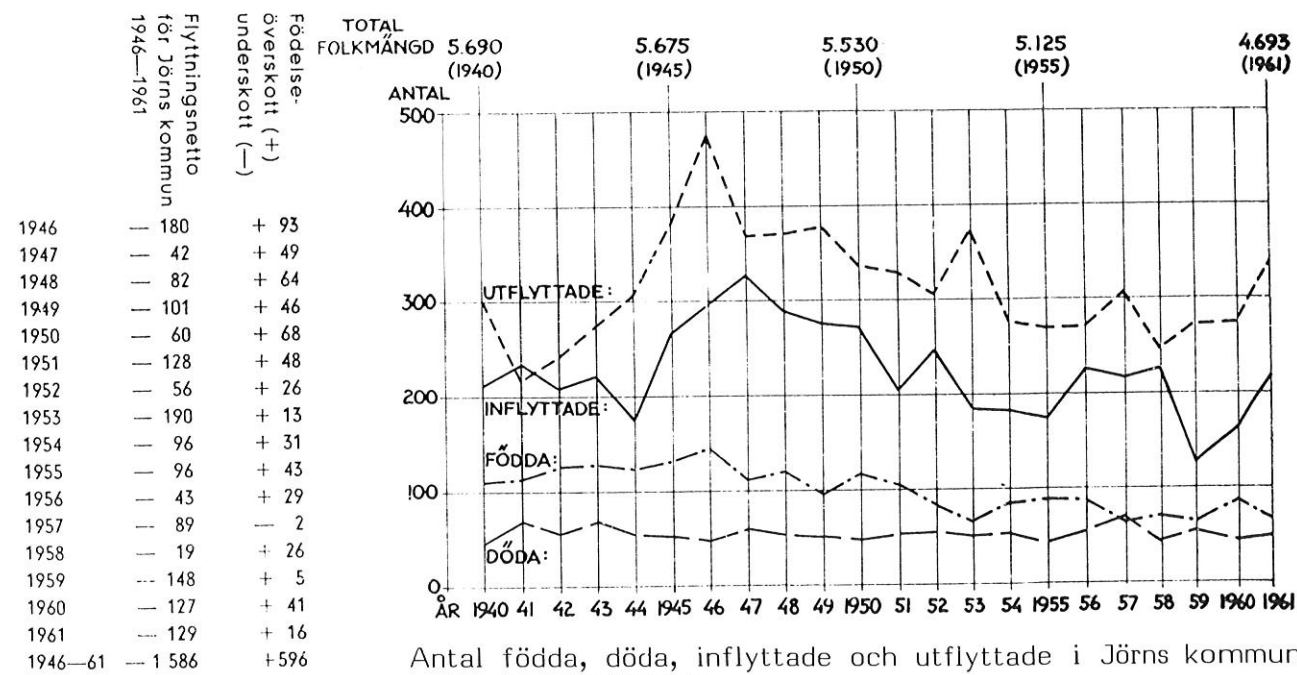


7. Vad är klockan i Hongkong, när den är 12.00 i Stockholm?

- A 21.00
- B 19.00
- C 17.00
- D 07.00
- E 05.00

8. Handeln med ett av nedanstående länder ger det största överskottet i Sveriges utrikeshandel. Vilket är landet?

- A Norge
- B USA
- C Storbritannien
- D Västtyskland
- E Danmark



Jörns kommun ingår sedan 1967 i Skellefteå kommun. Jörns församling, som motsvarar den tidigare kommunen, hade 31 december 1981 en total folkmängd på 2 821 personer.

FORTSÄTT PÅ NÄSTA SIDA